

# GEOQUAD

Jeder der Aufgaben A bis I ist ein Feld (und damit eine Ziffer) auf der Deutschlandkarte zuzuordnen!

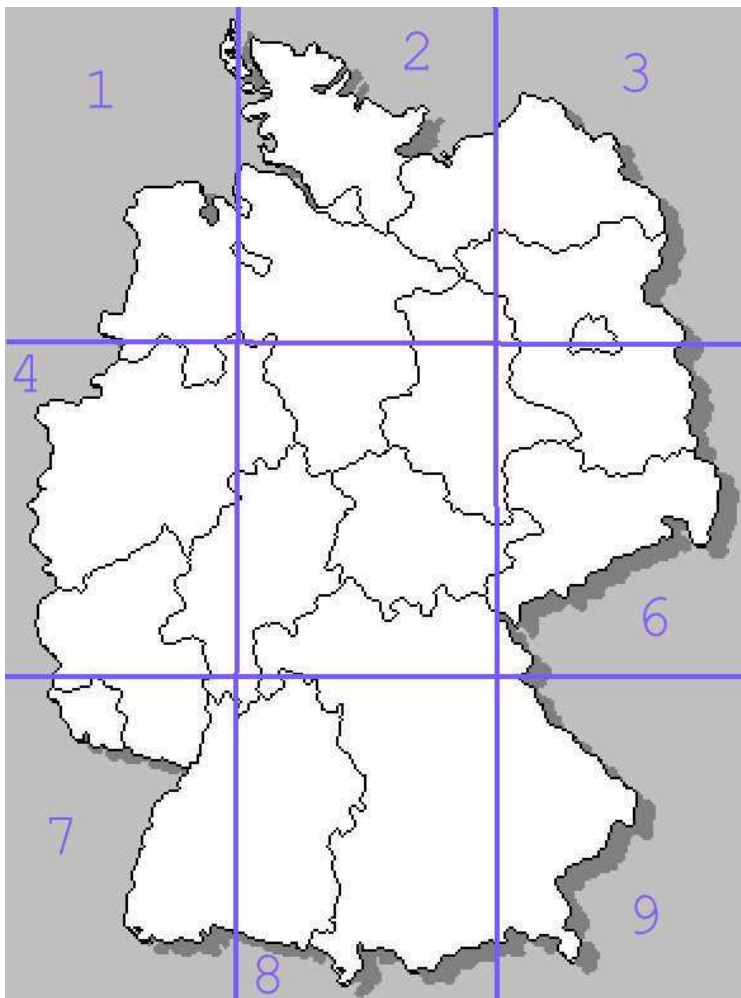

D) Rosis dunkler Himmel

H) GC11...  
Spiritus  
H.v.T.

I) wir nicht beim ... Neu-  
lich überlegten, weitergeht  
und, daß saßen so in .....  
das

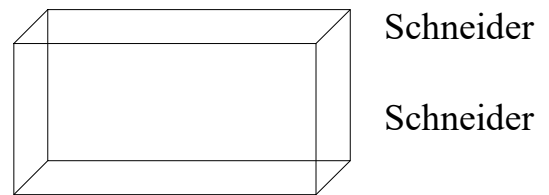
F) Erdbeer-  
Schokolade-  
Vanille-Wiese

B) Fernstraße von Chica-  
go nach Santa Monica/Los  
Angeles -20  
>OU <SECK.



A) Nach einem Vogel benannt,  
begehr, die größte ihrer Art!

G) Schneider    Schneider



Schneider

Schneider

Schneider

Schneider

Schneider

← Die Linie geht durch den nörd-  
lichsten Punkt des Saarlandes.

C) Nationalflagge, das Tier ist  
nicht wirklich gut zu erkennen!



Stimmen alle Zuordnungen? Man sollte die ermittelten Werte mal in die Kontrollformel einsetzen.

$$1*A+2*B+3*C+4*D+5*E+6*F+7*G+8*H+9*I = 203$$

		BCEH		L		AEFI	
N			ABCD				K
	AAEI		CEFI				
		BEFH		CDEG		BCDI	
	CDGH		ABCF		EFHI		M
						EFGG	
	ABDI		J		CDGH		
			DFGI			ACEI	

Hier liegt der Cache: 52 10.JKL 009 19.MNK